

平成 24 年度 秋期
基本情報技術者試験
午前 問題

試験時間

9:30 ~ 12:00 (2 時間 30 分)

注意事項

1. 試験開始及び終了は、監督員の時計が基準です。監督員の指示に従ってください。
2. 試験開始の合図があるまで、問題冊子を開いて中を見てはいけません。
3. 答案用紙への受験番号などの記入は、試験開始の合図があってから始めてください。
4. 問題は、次の表に従って解答してください。

問題番号	問 1 ~ 問 80
選択方法	全問必須

5. 答案用紙の記入に当たっては、次の指示に従ってください。
 - (1) 答案用紙は光学式読取り装置で読み取った上で採点しますので、B 又は HB の黒鉛筆で答案用紙のマークの記入方法のとおりマークしてください。マークの濃度がうすいなど、マークの記入方法のとおり正しくマークされていない場合は、読み取れません。特にシャープペンシルを使用する際には、マークの濃度に十分ご注意ください。訂正の場合は、あとが残らないように消しゴムできれいに消し、消しくずを残さないでください。
 - (2) 受験番号欄に受験番号を、生年月日欄に受験票の生年月日を記入及びマークしてください。答案用紙のマークの記入方法のとおり記入及びマークされていない場合は、採点されないことがあります。生年月日欄については、受験票の生年月日を訂正した場合でも、訂正前の生年月日を記入及びマークしてください。
 - (3) 解答は、次の例題にならって、解答欄に一つだけマークしてください。答案用紙のマークの記入方法のとおりマークされていない場合は、採点されません。

〔例題〕 秋の情報処理技術者試験が実施される月はどれか。

ア 8 イ 9 ウ 10 エ 11

正しい答えは“ウ 10”ですから、次のようにマークしてください。

例題	ア	イ	ウ	エ
----	---	---	---	---

注意事項は問題冊子の裏表紙に続きます。
こちら側から裏返して、必ず読んでください。

問題文中で共通に使用される表記ルール

各問題文中に注記がない限り，次の表記ルールが適用されているものとする。

図記号	説明
	論理積素子 (AND)
	否定論理積素子 (NAND)
	論理和素子 (OR)
	否定論理和素子 (NOR)
	排他的論理和素子 (XOR)
	論理一致素子
	バッファ
	論理否定器 (NOT)
	スリーステートバッファ

注記 入力部又は出力部に示されている○印は，論理状態の反転又は否定を表す。

問 1 から問 50 までは、テクノロジ系の問題です。

問 1 8 ビットの 2 進数 11010000 を右に 2 ビット算術シフトしたものを、00010100 から減じた値はどれか。ここで、負の数は 2 の補数表現によるものとする。

ア 00001000 イ 00011111 ウ 00100000 エ 11100000

問 2 与えられた正の整数 x_0, x_1 ($x_0 > x_1$) の最大公約数を、次の手順で求める。 $x_0=175, x_1=77$ の場合、手順 (2) は何回実行するか。ここで、“ $A \rightarrow B$ ” は、 A を B に代入することを表す。

[手順]

- (1) $2 \rightarrow i$
- (2) x_{i-2} を x_{i-1} で割った剰余 $\rightarrow x_i$
- (3) $x_i=0$ ならば x_{i-1} を最大公約数として終了する。
- (4) $i+1 \rightarrow i$ として (2) に戻る。

ア 3 イ 4 ウ 6 エ 7

問3 探索方法とその実行時間のオーダーの適切な組合せはどれか。ここで、探索するデータの数を n とし、ハッシュ値が衝突する（同じ値になる）確率は無視できるほど小さいものとする。また、実行時間のオーダーが n^2 であるとは、 n 個のデータを処理する時間が cn^2 (c は定数) で抑えられることをいう。

	2分探索	線形探索	ハッシュ探索
ア	$\log_2 n$	n	1
イ	$n \log_2 n$	n	$\log_2 n$
ウ	$n \log_2 n$	n^2	1
エ	n^2	1	n

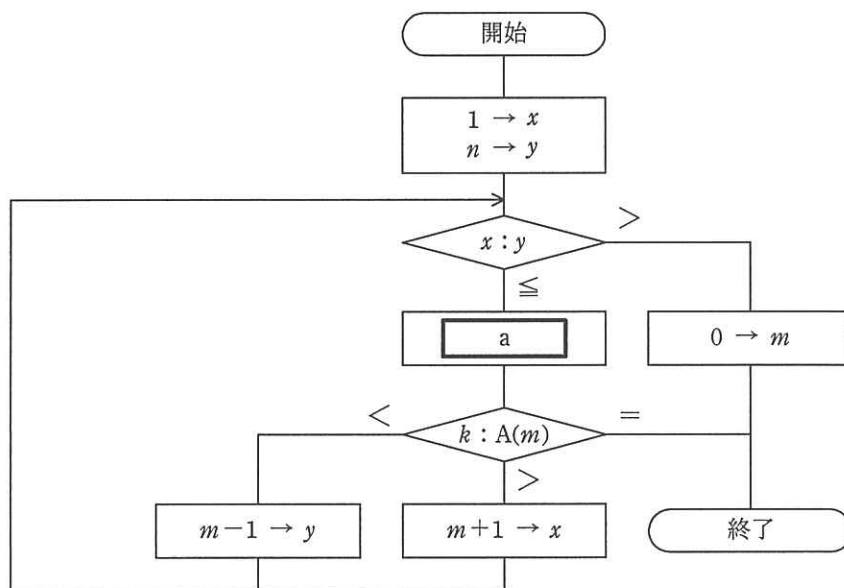
問4 英字の大文字 (A ~ Z) と数字 (0 ~ 9) を同一のビット数で一意にコード化するには、少なくとも何ビットが必要か。

ア 5 イ 6 ウ 7 エ 8

問5 四つのデータ A, B, C, D がこの順に入っているキューと空のスタックがある。手続 pop_enq, deq_push を使ってキューの中のデータを D, C, B, A の順に並べ替えるとき、deq_push の実行回数は最小で何回か。ここで、pop_enq はスタックから取り出したデータをキューに入れる操作であり、deq_push はキューから取り出したデータをスタックに入れる操作である。

ア 2 イ 3 ウ 4 エ 5

問6 昇順に整列済みの配列要素 $A(1), A(2), \dots, A(n)$ から, $A(m) = k$ となる配列要素 $A(m)$ の添字 m を二分探索法によって見つける処理を図に示す。終了時点で $m = 0$ である場合は, $A(m) = k$ となる要素は存在しない。図中の a に入る式はどれか。ここで, “ \div ” は, 小数点以下を切り捨てる除算を表す。



- ア $(x+y) \rightarrow m$ イ $(x+y) \div 2 \rightarrow m$
 ウ $(x-y) \div 2 \rightarrow m$ エ $(y-x) \div 2 \rightarrow m$

問7 $n!$ の値を, 次の関数 $F(n)$ によって計算する。乗算の回数を表す式はどれか。

$$F(n) = \begin{cases} 1 & (n=0) \\ n \times F(n-1) & (n > 0) \end{cases}$$

- ア $n-1$ イ n ウ n^2 エ $n!$

問8 XMLの特徴として、最も適切なものはどれか。

- ア XMLでは、HTMLに、Webページの表示性能の向上を主な目的とした機能を追加している。
- イ XMLでは、ネットワークを介した情報システム間のデータ交換を容易にするために、任意のタグを定義することができる。
- ウ XMLで用いることができるスタイル言語は、HTMLと同じものである。
- エ XMLは、SGMLを基に開発されたHTMLとは異なり、独自の仕様として開発された。

問9 割込み発生時のプロセッサの処理手順はどれか。

- ① プログラムレジスタ（プログラムカウンタ）などの退避
- ② ユーザモードから特権モードへの移行
- ③ 割込み処理ルーチンの開始番地の決定
- ④ 割込み処理ルーチンの実行

ア ① → ③ → ④ → ②

イ ① → ④ → ② → ③

ウ ② → ① → ③ → ④

エ ② → ③ → ④ → ①

問10 主記憶のアクセス時間が60ナノ秒、キャッシュメモリのアクセス時間が10ナノ秒であるシステムがある。キャッシュメモリを介して主記憶にアクセスする場合の実効アクセス時間が15ナノ秒であるとき、キャッシュメモリのヒット率は幾らか。

ア 0.1

イ 0.17

ウ 0.83

エ 0.9

問11 並列にアクセス可能な複数台の磁気ディスクに、各ファイルのデータを一定サイズのブロックに分割して分散配置し、ファイルアクセスの高速化を図る手法はどれか。

- ア ディスクアットワンス
- イ ディスクキャッシュ
- ウ ディスクストライピング
- エ ディスクミラーリング

問12 96 dpi のディスプレイに 12 ポイントの文字をビットマップで表示したい。正方フォントの縦は何ドットになるか。ここで、1 ポイントは $1/72$ インチとする。

- ア 8
- イ 9
- ウ 12
- エ 16

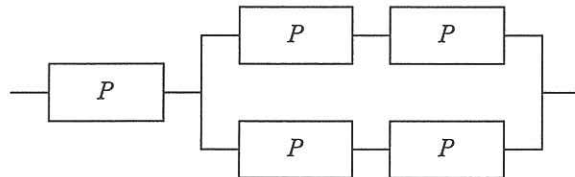
問13 3 層クライアントサーバシステム構成で実現した Web システムの特徴として、適切なものはどれか。

- ア HTML で記述されたプログラムをサーバ側で動作させ、クライアントソフトはその結果を画面に表示する。
- イ 業務処理の変更のたびに、Web システムを動作させるための業務処理用アプリケーションを配布し、クライアント端末にインストールする必要がある。
- ウ 業務処理はサーバ側で実行し、クライアントソフトは HTML の記述に従って、その結果を画面に表示する。
- エ クライアント端末には、サーバ側からの HTTP 要求を待ち受けるサービスを常駐させておく必要がある。

問14 デュアルシステムの説明として、最も適切なものはどれか。

- ア 同じ処理を行うシステムを二重に用意し、処理結果を照合することで処理の正しさを確認する。どちらかのシステムに障害が発生した場合は、縮退運転によって処理を継続する。
- イ オンライン処理を行う現用系と、バッチ処理などを行いながら待機させる待機系を用意し、現用系に障害が発生した場合は待機系に切り替え、オンライン処理を続行する。
- ウ 待機系に現用系のオンライン処理プログラムをロードして待機させておき、現用系に障害が発生した場合は、即時に待機系に切り替えて処理を続行する。
- エ プロセッサ、メモリ、チャンネル、電源系などを二重に用意しておき、それぞれの装置で片方に障害が発生した場合でも、処理を継続する。

問15 図のような、稼働率 P のシステムで構成された多重化システム全体の稼働率を表す式はどれか。ここで、並列の部分は、どちらか一方が稼働していればよいものとする。



- ア $1-(1-P)(1-P^2)^2$
- イ $P\{1-(1-P)^4\}$
- ウ $P\{1-(1-P)^2\}^2$
- エ $P\{1-(1-P^2)^2\}$

問16 コンピュータシステムの信頼性に関する記述のうち、適切なものはどれか。

- ア システムの遠隔保守は、MTTR を長くし、稼働率を向上させる。
- イ システムの稼働率は、MTTR と MTBF を長くすることで向上する。
- ウ システムの構成が複雑なほど、MTBF は長くなる。
- エ システムの予防保守は、MTBF を長くするために行う。

問17 タスクスケジューリング方式の説明のうち、特定のタスクが CPU 資源の割当てを待ち続ける可能性が最も高いものはどれか。

- ア 各タスクの優先度を決めて、優先度が高い順に実行し、CPU 割当てまでの待ち時間の長さに応じて優先度を徐々に上げていく。
- イ 各タスクを実行可能待ち行列に置かれた順に実行し、一定時間が経過したら実行を中断して実行可能待ち行列の最後尾に加える。
- ウ 処理予定時間が最も短いタスクから順に処理を実行する。現在実行中の処理が終了するか、又は何らかの要因によって中断されたとき、次のタスクを開始する。
- エ タスクがシステムに到着した順に実行可能待ち行列の最後尾に加え、常に実行可能待ち行列の先頭のタスクに CPU を割り当てる。

問18 OS が記憶領域の割当てと解放を繰り返すことによって、細切れの未使用領域が多数できてしまう場合がある。この現象を何というか。

- | | |
|--------------|----------|
| ア コンパクション | イ スワッピング |
| ウ フラグメンテーション | エ ページング |

問19 ページング方式の仮想記憶において、ページ置換えアルゴリズムに LRU 方式を採用する。主記憶に割り当てられるページ枠が 4 のとき、ページ 1, 2, 3, 4, 5, 2, 1, 3, 2, 6 の順にアクセスすると、ページ 6 をアクセスする時点で置き換えられるページはどれか。ここで、初期状態では主記憶にどのページも存在しないものとする。

- ア 1 イ 2 ウ 4 エ 5

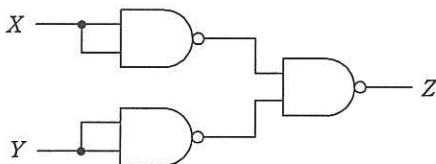
問20 プログラムを構成するモジュールの結合を、プログラムの実行時に行う方式はどれか。

- ア インタプリタ イ オーバレイ
 ウ 静的リンクング エ 動的リンクング

問21 ソフトウェアの統合開発環境として提供されている OSS はどれか。

- ア Eclipse イ GCC ウ Linux エ Tomcat

問22 NAND 素子を用いた次の組合せ回路の出力 Z を表す式はどれか。ここで、論理式中の “ \cdot ” は論理積，“ $+$ ” は論理和，“ \bar{X} ” は X の否定を表す。



- ア $X \cdot Y$ イ $X+Y$ ウ $\bar{X} \cdot \bar{Y}$ エ $\overline{X+Y}$

問23 二つの安定状態をもつ順序回路はどれか。

ア NANDゲート

イ 加算器

ウ コンデンサ

エ フリップフロップ

問24 Web ページのスタイルを定義する仕組みはどれか。

ア CMS

イ CSS

ウ PNG

エ SVG

問25 ある企業では、顧客マスタファイル、商品マスタファイル、担当者マスタファイル及び当月受注ファイルを基にして、月次で受注実績を把握している。各ファイルの項目が表のとおりであるとき、これら四つのファイルを使用して当月分と直前の3か月の出力が可能な受注実績はどれか。

ファイル	項目	備考
顧客マスタ	顧客コード, 名称, 担当者コード, 前月受注額, 2か月前受注額, 3か月前受注額	各顧客の担当者は1人
商品マスタ	商品コード, 名称, 前月受注額, 2か月前受注額, 3か月前受注額	_____
担当者マスタ	担当者コード, 氏名	_____
当月受注	顧客コード, 商品コード, 受注額	当月の合計受注額

ア 顧客別の商品別受注実績

イ 商品別の顧客別受注実績

ウ 商品別の担当者別受注実績

エ 担当者別の顧客別受注実績

問26 E-R 図の説明のうち、適切なものはどれか。

- ア エンティティタイプ間には、1対多、多対多などのリレーションシップがある。
- イ エンティティタイプ間の関連は、参照側から被参照側への方向の矢印線で表現する。
- ウ エンティティタイプには属性をもたせないで、リレーションシップタイプに属性をもたせる。
- エ エンティティタイプの中に関連先のエンティティ名を記述することによって、リレーションシップを表す。

問27 関係データベースの表の列に利用者がインデックスを設定する目的はどれか。

- ア 外部キーの列の値を別の表の主キーの値に一致させる。
- イ データの格納位置への効率的なアクセスが可能となり、検索速度の向上が期待できる。
- ウ 一つの大きなテーブルを複数のディスクに分散格納する場合、ディスク容量が節約できる。
- エ 列内に重複する値がないようにする。

問28 新たにデータ項目の命名規約を設ける場合、次の命名規約だけでは回避できない問題はどれか。

〔命名規約〕

- (1) データ項目名の末尾には必ず“名”，“コード”，“数”，“金額”，“年月日”などの区分語を付与し，区分語ごとに定めたデータ型にする。
- (2) データ項目名と意味を登録した辞書を作成し，異音同義語や同音異義語が発生しないようにする。

- ア データ項目“受信年月日”のデータ型として，日付型と文字列型が混在する。
- イ データ項目“受注金額”の取り得る値の範囲がテーブルによって異なる。
- ウ データ項目“賞与金額”と同じ意味で“ボーナス金額”というデータ項目がある。
- エ データ項目“取引先”が，“取引先コード”か“取引先名”か，判別できない。

問29 “商品”表のデータが次の状態のとき、〔ビュー定義〕で示すビュー“収益商品”の行数が減少する更新処理はどれか。

商品

商品コード	品名	型式	売値	仕入値
S001	T	T2003	150,000	100,000
S003	S	S2003	200,000	170,000
S005	R	R2003	140,000	80,000

〔ビュー定義〕

```
CREATE VIEW 収益商品
AS SELECT * FROM 商品
WHERE 売値 - 仕入値 >= 40000
```

- ア 商品コードが S001 の売値を 130,000 に更新する。
- イ 商品コードが S003 の仕入値を 150,000 に更新する。
- ウ 商品コードが S005 の売値を 130,000 に更新する。
- エ 商品コードが S005 の仕入値を 90,000 に更新する。

問30 DBMS が、データベースの更新に対して保証すべき原子性 (atomicity) の単位はどれか。

- ア DBMS の起動から停止まで
- イ チェックポイントから次のチェックポイントまで
- ウ データベースのバックアップ取得から媒体障害の発生時点まで
- エ トランザクションの開始からコミット又はロールバックまで

問31 関係データベースの“注文”表の“顧客番号”は，“顧客”表の主キー“顧客番号”を参照する外部キーである。このとき，参照の整合性を損なうデータ操作はどれか。ここで，ア～エの記述におけるデータの並びは，それぞれの表の列の並びと同順とする。

注文

伝票番号	顧客番号
0001	C005
0002	K001
0003	C005
0004	D010

顧客

顧客番号	顧客名
C005	福島
D010	千葉
K001	長野
L035	宮崎

- ア “顧客”表の行

L035	宮崎
------	----

 を削除する。
- イ “注文”表に行

0005	D010
------	------

 を追加する。
- ウ “注文”表に行

0006	F020
------	------

 を追加する。
- エ “注文”表の行

0002	K001
------	------

 を削除する。

問32 通信速度 64,000 ビット／秒の専用線で接続された端末間で，平均 1,000 バイトのファイルを，2 秒ごとに転送するときの回線利用率は何％か。ここで，ファイル転送に伴い，転送量の 20％の制御情報が付加されるものとする。

- ア 0.9 イ 6.3 ウ 7.5 エ 30.0

問33 ネットワーク機器に付けられている MAC アドレスの構成として、適切な組合せはどれか。

	先頭 24 ビット	後続 24 ビット
ア	エリア ID	IP アドレス
イ	エリア ID	固有製造番号
ウ	OUI (ベンダ ID)	IP アドレス
エ	OUI (ベンダ ID)	固有製造番号

問34 OSI 基本参照モデルにおいて、エンドシステム間のデータ伝送の中継と経路制御の機能をもつ層はどれか。

- ア セッション層
- イ データリンク層
- ウ トランスポート層
- エ ネットワーク層

問35 ネットワーク機器の一つであるスイッチングハブ（レイヤ 2 スイッチ）の機能として、適切なものはどれか。

- ア LAN ポートに接続された端末に対して、IP アドレスの動的な割当てを行う。
- イ 受信したパケットを、宛先 MAC アドレスが存在する LAN ポートだけに転送する。
- ウ 受信したパケットを、全ての LAN ポートに転送（ブロードキャスト）する。
- エ 受信したパケットを、ネットワーク層で分割（フラグメンテーション）する。

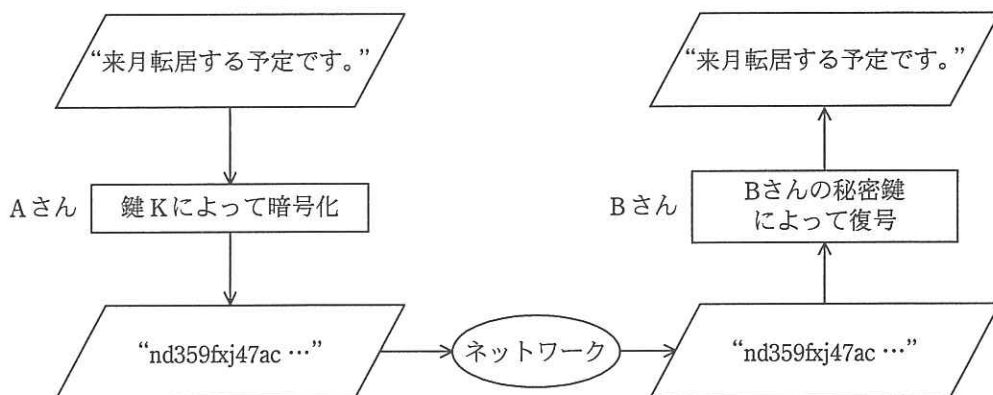
問36 2 台の PC に IPv4 アドレスを割り振りたい。サブネットマスクが 255.255.255.240 のとき、両 PC の IPv4 アドレスが同一ネットワークに所属する組合せはどれか。

- ア 192.168.1.14 と 192.168.1.17
- イ 192.168.1.17 と 192.168.1.29
- ウ 192.168.1.29 と 192.168.1.33
- エ 192.168.1.33 と 192.168.1.49

問37 DNS キャッシュポイズニングに分類される攻撃内容はどれか。

- ア DNS サーバのソフトウェアのバージョン情報を入手して、DNS サーバのセキュリティホールを特定する。
- イ PC が参照する DNS サーバに誤ったドメイン情報を注入して、偽装された Web サーバに PC の利用者を誘導する。
- ウ 攻撃対象のサービスを妨害するために、攻撃者が DNS サーバを踏み台に利用して再帰的な問合せを大量に行う。
- エ 内部情報を入手するために、DNS サーバが保存するゾーン情報をまとめて転送させる。

問38 公開鍵暗号方式を用いて，図のように A さんから B さんへ，他人に秘密にしておきたい文章を送るとき，暗号化に用いる鍵 K として，適切なものはどれか。



- ア A さんの公開鍵
- ウ B さんの公開鍵

- イ A さんの秘密鍵
- エ 共通の秘密鍵

問39 バイオメトリクス認証には身体的特徴を抽出して認証する方式と行動的特徴を抽出して認証する方式がある。行動的特徴を用いているものはどれか。

- ア 血管の分岐点の分岐角度や分岐点間の長さから特徴を抽出して認証する。
- イ 署名するときの速度や筆圧から特徴を抽出して認証する。
- ウ どうろ孔から外側に向かって発生するカオス状のしわの特徴を抽出して認証する。
- エ 隆線によって形作られる紋様からマニューシャと呼ばれる特徴点を抽出して認証する。

問40 SQL インジェクションの説明はどれか。

- ア Web アプリケーションに問題があるとき、データベースに悪意のある問合せや操作を行う命令文を入力して、データベースのデータを改ざんしたり不正に取得したりする攻撃
- イ 悪意のあるスクリプトを埋め込んだ Web ページを訪問者に閲覧させて、別の Web サイトで、その訪問者が意図しない操作を行わせる攻撃
- ウ 市販されている DBMS の脆弱性^{ぜい}を利用することによって、宿主となるデータベースサーバを探して自己伝染を繰り返す、インターネットのトラフィックを急増させる攻撃
- エ 訪問者の入力データをそのまま画面に表示する Web サイトに対して、悪意のあるスクリプトを埋め込んだ入力データを送ることによって、訪問者のブラウザで実行させる攻撃

問41 Web サーバのコンテンツの改ざんを検知する方法のうち、最も有効なものはどれか。

- ア Web サーバのコンテンツの各ファイルの更新日を保管しておき、定期的に各ファイルの更新日と比較する。
- イ Web サーバのコンテンツの各ファイルのハッシュ値を保管しておき、定期的に各ファイルから生成したハッシュ値と比較する。
- ウ Web サーバのメモリ使用率を定期的に確認し、バッファオーバーフローが発生していないことを確認する。
- エ Web サーバへの通信を監視し、HTTP、HTTPS 以外の通信がないことを確認する。

問42 ファイルの属性情報として、ファイルに対する読取り、書込み、実行の権限を独立に設定できる OS がある。この 3 種類の権限は、それぞれに 1 ビットを使って許可、不許可を設定する。この 3 ビットを 8 進数表現 0～7 の数字で設定するとき、次の試行結果から考えて、適切なものはどれか。

〔試行結果〕

- ① 0 を設定したら、読取り、書込み、実行ができなくなってしまった。
- ② 3 を設定したら、読取りと書込みはできたが、実行ができなかった。
- ③ 7 を設定したら、読取り、書込み、実行ができるようになった。

- ア 2 を設定すると、読取りと実行ができる。
- イ 4 を設定すると、実行だけができる。
- ウ 5 を設定すると、書込みだけができる。
- エ 6 を設定すると、読取りと書込みができる。

問43 ウイルスの調査手法に関する記述のうち、適切なものはどれか。

- ア 逆アセンブルは、バイナリコードの新種ウイルスの動作を解明するのに有効な手法である。
- イ パターンマッチングでウイルスを検知する方式は、暗号化された文書中のマクロウイルスの動作を解明するのに有効な手法である。
- ウ ファイルのハッシュ値を基にウイルスを検知する方式は、未知のウイルスがどのウイルスの亜種かを特定するのに確実な手法である。
- エ 不正な動作からウイルスを検知する方式は、ウイルス名を特定するのに確実な手法である。

問44 コンピュータやネットワークのセキュリティ上の脆弱性を発見するために、システムを実際に攻撃して侵入を試みる手法はどれか。

- ア ウォークスルー
- イ ソフトウェアインスペクション
- ウ ペネトレーションテスト
- エ リグレッションテスト

問45 安全性や信頼性を確保するための設計のうち、フルプルーフに該当するものはどれか。

- ア 装置が故障したときは、システムが安全に停止するようにして、被害を最小限に抑える。
- イ 装置が故障したときは、利用できる機能を制限したり、処理能力を低下させたりしても、システムは稼働させる。
- ウ 装置が故障しても、システム全体の機能に影響がないように、二重化などの冗長な構成とする。
- エ 利用者が誤った操作をしても、システムに異常が起こらないようにする。

問46 UMLのダイアグラムのうち、インスタンス間の関係を表現するものはどれか。

- ア アクティビティ図
- イ オブジェクト図
- ウ コンポーネント図
- エ ユースケース図

問47 オブジェクト指向におけるカプセル化を説明したものはどれか。

- ア 同じ性質をもつ複数のオブジェクトを抽象化して、整理すること
- イ 基底クラスの性質を派生クラスに受け継がせること
- ウ クラス間に共通する性質を抽出し、基底クラスを作ること
- エ データとそれを操作する手続を一つのオブジェクトにして、その実装をオブジェクトの内部に隠蔽すること

問48 ブラックボックステストに関する記述として、適切なものはどれか。

- ア テストデータの作成基準として、命令や分岐の網羅率を使用する。
- イ 被テストプログラムに冗長なコードがあっても検出できない。
- ウ プログラムの内部構造に着目し、必要な部分が実行されたかどうかを検証する。
- エ 分岐命令やモジュールの数が増えると、テストデータが急増する。

問49 運用テストにおける検査内容として、適切なものはどれか。

- ア 個々のソフトウェアユニットについて、仕様を満足していることを確認する。
- イ ソフトウェア品目の中で使用しているアルゴリズムの妥当性を確認する。
- ウ ソフトウェアユニット間のインタフェースが整合していることを確認する。
- エ 利用者に提供するという視点で、システムが要求を満足していることを確認する。

問50 システムの外部設計を完了させるとき、承認を受けるものとして、適切なものはどれか。

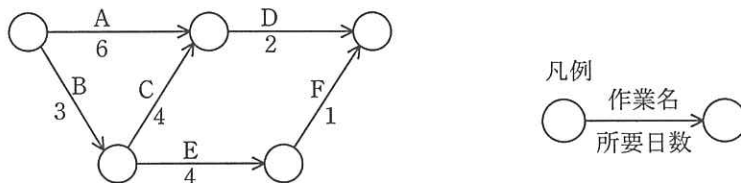
- ア 画面レイアウト
- イ システム開発計画
- ウ 物理データベース仕様
- エ プログラム流れ図

問 51 から問 60 までは、マネジメント系の問題です。

問51 プロジェクトスコープマネジメントにおいて、WBS 作成のプロセスで行うことはどれか。

- ア 作業の工数を算定してコストを見積もる。
- イ 作業を階層的に細分化する。
- ウ 作業を順序付けして、スケジュールとして組み立てる。
- エ 成果物を生成するアクティビティを定義する。

問52 図のアローダイアグラムにおいて、プロジェクト全体の期間を短縮するために、作業 A ～ E の幾つかを 1 日ずつ短縮する。プロジェクト全体を 2 日短縮できる作業の組合せはどれか。



- ア A, C, E
- イ A, D
- ウ B, C, E
- エ B, D

問53 ある新規システムの開発規模を見積もったところ、500 ファンクションポイント (FP) であった。このシステムを構築するプロジェクトには、開発工数の他にシステムの導入や開発者教育の工数が 10 人月必要である。また、プロジェクト管理に、開発と導入・教育を合わせた工数の 10% を要する。このプロジェクトに要する全工数は何人月か。ここで、開発の生産性は 1 人月当たり 10FP とする。

- ア 51
- イ 60
- ウ 65
- エ 66

問54 データの追加・変更・削除が、少ないながらも一定の頻度で行われるデータベースがある。このデータベースのフルバックアップを磁気テープに取得する時間間隔を今までの2倍にした。このとき、データベースのバックアップ又は復旧に関する記述のうち、適切なものはどれか。

- ア ジャーナル情報によって復旧するときの処理時間が平均して約2倍になる。
- イ フルバックアップ1回当たりの磁気テープ使用量が約2倍になる。
- ウ フルバックアップ1回当たりの磁気テープ使用量が約半分になる。
- エ フルバックアップ取得の平均実行時間が約2倍になる。

問55 システムの移行方式の一つである一斉移行方式の特徴はどれか。

- ア 新旧システム間を接続するアプリケーションが必要となる。
- イ 新旧システムを並行させて運用し、ある時点で新システムに移行する。
- ウ 新システムへの移行時のトラブルの影響が大きい。
- エ 並行して稼働させるための運用コストが発生する。

問56 ITIL v3における問題管理プロセスの目標はどれか。

- ア インシデントに対する既存ITサービスへの変更や新規サービスの導入を、効率的かつ安全に実施する。
- イ インシデントによって中断したITサービスを、合意した時間内に復旧する。
- ウ インシデントの根本原因を突き止めて排除したり、インシデントの発生を予防したりする。
- エ 利用者に単一窓口を提供し、事業への影響を最小限にして、通常サービスへ復帰できるように支援する。

問57 ソースコードのバージョン管理システムが導入された場合に、システム監査において、ソースコードの機密性のチェックポイントとして追加することが適切なものはどれか。

- ア バージョン管理システムに登録した変更結果を責任者が承認していること
- イ バージョン管理システムのアクセスコントロールの設定が適切であること
- ウ バージョン管理システムの導入コストが適正な水準にあること
- エ バージョン管理システムを開発部門が選定していること

問58 リスクアセスメントに基づく監査対象の選定として、適切なものはどれか。

- ア 運用開始時期の順に、全てのシステムを対象とする。
- イ 監査実施体制を踏まえて、実施可能なシステムを対象とする。
- ウ 無作為に抽出したシステムを対象とする。
- エ 問題発生の可能性とその影響の大きなシステムを対象とする。

問59 経済産業省の“営業秘密管理指針”に基づく営業秘密データの管理状況について監査を行うとき、秘密管理性のチェックポイントはどれか。

- ア 当該データが経営効率の改善に役立っているかどうかを分析していること
- イ 当該データの記録媒体に秘密を意味する表示をしていること
- ウ 当該データの内容が刊行物に掲載されていないかを定期的に確認していること
- エ 当該データの内容が公序良俗に反していないかを確認していること

問60 マスタファイル管理に関するシステム監査項目のうち、可用性に該当するものはどれか。

ア マスタファイルが置かれているサーバを二重化し、耐障害性の向上を図っていること

イ マスタファイルのデータを複数件まとめて検索・加工するための機能が、システムに盛り込まれていること

ウ マスタファイルのメンテナンスは、特権アカウントを付与された者だけに許されていること

エ マスタファイルへのデータ入力チェック機能が、システムに盛り込まれていること

問 61 から問 80 までは、ストラテジ系の問題です。

問61 “システム管理基準”によれば、情報戦略における情報システム全体の最適化目標を設定する際の留意事項はどれか。

- ア 開発、運用及び保守の費用の算出基礎を明確にすること
- イ 開発の規模、システム特性等を考慮して開発手順を決めておくこと
- ウ 経営戦略との整合性を考慮すること
- エ 必要な要員、予算、設備、期間等を確保すること

問62 BPM の説明はどれか。

- ア 企業活動の主となる生産、物流、販売、財務、人事などの業務の情報を一元管理することによって、経営資源の全体最適を実現する。
- イ 業務プロセスに分析、設計、実行、改善のマネジメントサイクルを取り入れ、業務プロセスの改善見直しや最適なプロセスへの統合を継続的に実施する。
- ウ 顧客データベースを基に、商品の販売から保守サービス、問合せやクレームへの対応など顧客に関する業務プロセスを一貫して管理する。
- エ 部品の供給から製品の販売までの一連の業務プロセスの情報をリアルタイムで交換することによって、在庫の削減とリードタイムの短縮を実現する。

問63 SaaS を説明したものはどれか。

- ア インターネット経由でアプリケーションソフトウェアの機能を，利用者が必要なときだけ利用するサービスのこと
- イ 企業の経営資源を有効に活用するために，基幹業務を統合的に管理するためのソフトウェアパッケージのこと
- ウ 既存の組織やビジネスプロセスを抜本的に見直し，職務，業務フロー，管理機構，情報システムを再設計すること
- エ 発注者とサービス提供者との間で，サービスの品質の内容について合意した文書のこと

問64 IT 投資案件において、5 年間の投資効果を ROI (Return On Investment) で評価した場合、四つの案件 a~d のうち、最も効果が高いものはどれか。ここで、内部収益率 (IRR) は 0 とする。

a	年目	0	1	2	3	4	5
	利益		15	30	45	30	15
	投資額	100					

b	年目	0	1	2	3	4	5
	利益		105	75	45	15	0
	投資額	200					

c	年目	0	1	2	3	4	5
	利益		60	75	90	75	60
	投資額	300					

d	年目	0	1	2	3	4	5
	利益		105	105	105	105	105
	投資額	400					

ア a

イ b

ウ c

エ d

問65 情報化に関する費用のうち、ランニングコストに該当するものはどれか。

ア サーバなど情報機器の保守費用

イ 情報システム戦略立案のコンサルティング費用

ウ ソフトウェアパッケージの導入費用

エ 要件定義を行うシステムエンジニアの費用

問66 共通フレーム 2007 によれば、企画プロセスで定義するものはどれか。

- ア 新しい業務の在り方や業務手順、入出力情報、業務を実施する上での責任と権限、業務上のルールや制約などの要求事項
- イ 業務要件を実現するために必要なシステムの機能や、システムの開発方式、システムの運用手順、障害復旧時間などの要求事項
- ウ 経営事業の目的、目標を達成するために必要なシステムに関する経営上のニーズ、システム化、システム改善を必要とする業務上の課題などの要求事項
- エ 求められているシステムを実現するために必要なシステムの機能、能力、ライフサイクル、信頼性、安全性、セキュリティなどの要求事項

問67 SWOT 分析を用いて識別した、自社製品に関する外部要因はどれか。

- ア 機能面における強み
- イ コスト競争力
- ウ 新規参入による脅威
- エ 品質における弱み

問68 コストプラス法による価格設定方法を表すものはどれか。

- ア 価格分析によって、利益最大、リスク最小を考慮し、段階的に価格を決める。
- イ 顧客に対する値引きを前提にし、当初からマージンを加えて価格を決める。
- ウ 市場で競争可能と推定できるレベルで価格を決める。
- エ 製造原価、営業費を基準にし、希望マージンを織り込んで価格を決める。

問69 プロダクトライフサイクルにおける成長期の特徴はどれか。

- ア 市場が商品の価値を理解し始める。商品ラインもチャネルも拡大しなければならない。この時期は売上も伸びるが、投資も必要である。
- イ 需要が大きくなり、製品の差別化や市場の細分化が明確になってくる。競争者間の競争も激化し、新品種の追加やコストダウンが重要となる。
- ウ 需要が減ってきて、撤退する企業も出てくる。この時期の強者になれるかどうかを判断し、代替市場への進出なども考える。
- エ 需要は部分的で、新規需要開拓が勝負である。特定ターゲットに対する信念に満ちた説得が必要である。

問70 CRM の目的はどれか。

- ア 顧客ロイヤルティの獲得と顧客生涯価値の最大化
- イ 在庫不足による販売機会損失の削減
- ウ 製造に必要な資材の発注量と発注時期の決定
- エ 販売時点での商品ごとの販売情報の把握

問71 ナレッジマネジメントを説明したものはどれか。

- ア 企業内に散在している知識を共有化し、全体の問題解決力を高める経営を行う。
- イ 迅速な意思決定のために、組織の階層をできるだけ少なくした平型の組織構造によって経営を行う。
- ウ 優れた業績を上げている企業との比較分析から、自社の経営革新を行う。
- エ 他社にはまねのできない、企業独自のノウハウや技術などの強みを核とした経営を行う。

問72 デジタルディバイドを説明したものはどれか。

- ア PCなどの情報通信機器の利用方法が分からなかったり、情報通信機器を所有して
いなかったりして、情報の入手が困難な人々のことである。
- イ 高齢者や障害者の情報通信の利用面での困難が、社会的・経済的格差につながら
ないように、誰もが情報通信を利活用できるように整備された環境のことである。
- ウ 情報通信機器やソフトウェア、情報サービスなどを、高齢者・障害者を含む全て
の人が利用可能であるか、利用しやすくなっているかの度合いのことである。
- エ 情報リテラシの有無やITの利用環境の相違などによって生じる、社会的又は経済
的格差のことである。

問73 セル生産方式の利点が生かせる対象はどれか。

- ア 生産性を上げるために、大量生産が必要なもの
- イ 製品の仕様が長期間変わらないもの
- ウ 多種類かつフレキシブルな生産が求められるもの
- エ 標準化、単純化、専門化による分業が必要なもの

問74 インターネットショッピングで売上の全体に対して、あまり売れない商品の売上合
計の占める割合が無視できない割合になっていることを指すものはどれか。

- ア アフィリエイト
- イ オプトイン
- ウ ドロップ SHIPPING
- エ ロングテール

問75 裁量労働制の説明はどれか。

- ア 企業が継続雇用の前提として、従業員に対して他社でも通用する技術・能力の維持責任を求める一方、企業も従業員の能力開発を積極的に支援する。
- イ 従業員 1 人当たりの労働時間を短縮したり仕事の配分方法を見直したりするなど、労働者間で労働を分かち合うことで雇用の維持・創出を図る。
- ウ 特定の専門業務や企画業務において、労働時間は、実際の労働時間に関係なく、労使間であらかじめ取り決めた労働時間とみなす。
- エ 能力主義と実績主義の徹底、経営参加意識の醸成、業績向上へのインセンティブなどを目的に、職務と能力、業績を基準に報酬を決める。

問76 商品の 1 日当たりの販売確率が表のとおりであるとき、1 個当たりの利益を 1,000 円とすると、利益の期待値が最大になる仕入個数は何個か。ここで、売れ残った場合、1 個当たり 300 円の廃棄ロスが出るものとする。

		販売個数			
		4	5	6	7
仕入 個数	4	100%	—	—	—
	5	30%	70%	—	—
	6	30%	30%	40%	—
	7	30%	30%	30%	10%

ア 4

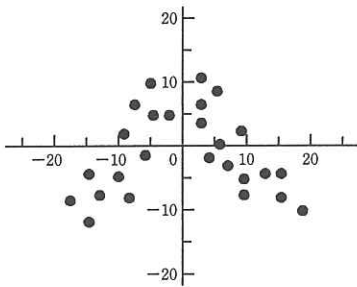
イ 5

ウ 6

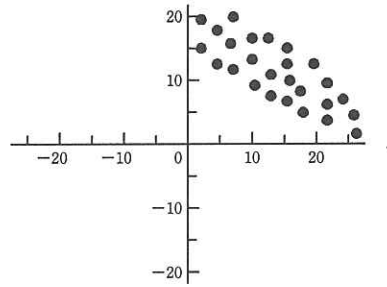
エ 7

問77 散布図のうち，“負の相関”を示すものはどれか。

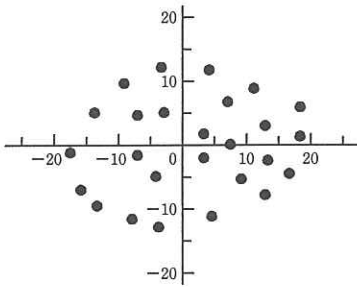
ア



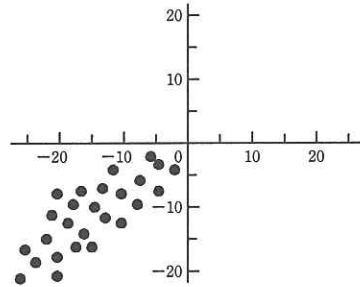
イ



ウ



エ



問78 親和図法を説明したものはどれか。

- ア 事態の進展とともに様々な事象が想定される問題について対応策を検討し，望ましい結果に至るプロセスを定める方法である。
- イ 収集した情報を相互の関連によってグループ化し，解決すべき問題点を明確にする方法である。
- ウ 複雑な要因が絡み合う事象について，その事象間の因果関係を明らかにする方法である。
- エ 目的・目標を達成するための手段・方策を順次展開し，最適な手段・方策を追求していく方法である。

問79 著作権法で保護されるものはどれか。

ア アルゴリズム

イ コンパイラのプログラム

ウ プログラム言語

エ プロトコル

問80 派遣元会社 A 社と派遣先会社 B 社が派遣契約を結び、A 社は社員である N 氏を派遣した。労働者派遣法に照らして適切な行為はどれか。

ア B 社の繁忙期と N 氏の休暇申請が重なったので、B 社から直接 N 氏に休暇の変更を指示した。

イ N 氏からの作業環境に関する苦情に対し、B 社は雇用関係にないので、対応は A 社だけで行った。

ウ N 氏は派遣期間中の仕事に関する指示を、B 社の担当者から直接受けることにした。

エ 派遣期間中に N 氏の作業時間が空いたので、B 社は派遣取決め以外の作業を依頼した。

[メモ用紙]

[メモ用紙]

[メモ用紙]

[メモ用紙]

6. 退室可能時間に途中で退室する場合には、手を挙げて監督員に合図し、答案用紙が回収されてから静かに退室してください。

退室可能時間	10:30 ~ 11:50
--------	---------------

7. 問題に関する質問にはお答えできません。文意どおり解釈してください。
8. 問題冊子の余白などは、適宜利用して構いません。
9. 試験時間中、机の上に置けるものは、次のものに限ります。
なお、会場での貸出しは行っていません。
受験票、黒鉛筆及びシャープペンシル（B 又は HB）、鉛筆削り、消しゴム、定規、時計（アラームなど時計以外の機能は使用不可）、ハンカチ、ポケットティッシュ、目薬
これら以外は机の上に置けません。使用もできません。
10. 試験終了後、この問題冊子は持ち帰ることができます。
11. 答案用紙は、いかなる場合でも提出してください。回収時に提出しない場合は、採点されません。
12. 試験時間中にトイレへ行きたくなくなったり、気分が悪くなったりした場合は、手を挙げて監督員に合図してください。
13. 午後の試験開始は 13:00 ですので、12:40 までに着席してください。

試験問題に記載されている会社名又は製品名は、それぞれ各社の商標又は登録商標です。

なお、試験問題では、™ 及び ® を明記していません。